



СМАРТИК-2021

Математическая игра для первоклассников

Заполни бланк печатными буквами. Используй тёмную ручку.

ФАМИЛИЯ

--	--	--	--	--	--	--	--	--	--	--	--	--	--	--	--	--	--	--	--

ИМЯ

--	--	--	--	--	--	--	--	--	--	--	--	--	--	--	--	--	--	--	--

КОД ШКОЛЫ (сообщит учитель)

--	--	--	--	--	--	--	--	--	--

а б в г д е

КЛАСС (отметь крестиком X)

<input type="checkbox"/>	<input type="checkbox"/>	<input type="checkbox"/>	<input type="checkbox"/>	<input type="checkbox"/>	<input type="checkbox"/>
--------------------------	--------------------------	--------------------------	--------------------------	--------------------------	--------------------------

другое

впиши букву
или цифру

В каждой задаче отметь КРЕСТИКОМ один ответ.

1 Сколько букв в слове **СМАРТИК** левее буквы **Т**?

 2

 3

 4

 5

2 На каком рисунке нет круга?









3 Смартик считал по порядку: 1, 2, 3, потом несколько чисел пропустил и продолжил: 7, 8, 9, 10. Сколько чисел он пропустил?

 2

 3

 4

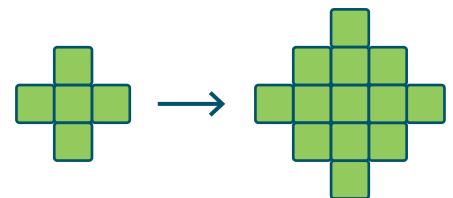
 5

4 Сколько квадратиков надо добавить, чтобы получить из первой фигурки вторую?

 7

 8

 9

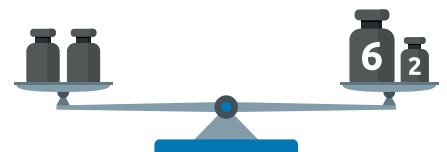
 12


5 Какие гири стоят на левой чаше весов?

 2 2

 3 3

 4 4


 5 5


6 На каком рисунке кружок выше и правее звёздочки?









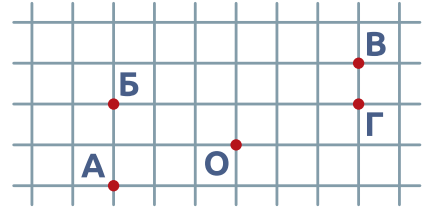




7 У какого цветочка число точек на всех красных лепестках больше, чем 5?



8 Жучок ходит по сторонам клеточек. Из точки О он прошёл 2 клетки вверх, потом 3 клетки вправо и ещё одну клетку вниз. Где он оказался?



9 Маша-Растреряша собиралась в школу. Она надела зелёную шапку, красное пальто и синие сапоги, а портфель забыла. Найди Машу-Растреряшу.



10 Результат верхнего примера на 5 больше результата нижнего примера. За цветочками спрятаны одинаковые числа. Что спрятано под кляксой?

+ 3

- 3

+ 5

- 5

+ 2 =

=

11 Смартик убрал несколько фруктов. В каждой вазе осталось по одному фрукту, и все они разные. Что осталось в первой вазе?



12 Из одинаковых деталей и винтиков Смартик собрал конструкцию (рисунок справа). Что можно из неё получить, если повернуть некоторые детали?

