

# СМАРТИК-2023

Математическая игра для детского сада

ИМЯ

8

Сколько фигур на рисунке не зелёные и не треугольники?



1


2

3

4

9

Пчёлка облетела все цветки по одному разу. Она начала с красного цветка и каждый раз перелетала на цветок или **того же цвета**, или **с тем же числом лепестков**, как у предыдущего. Нарисуй путь, которым могла лететь пчёлка.



10


Кенгурёнок Смартик сначала наклеил на лист бумаги красный круг, потом — зелёный, за ним — жёлтый, а потом — синий.

Закрась белые части рисунка, чтобы получилась картинка как у Смартика.




1

Кеша нарисовал пароходик с двумя трубами и тремя окошками. Найди этот пароходик.



2

Саша фотографировал свой цветок. Какую фотографию он сделал последней?




3 Закрась кружок, в котором правильно записано число звёздочек, соединённых с ним.



4 Раскрась шарик так, чтобы у Мити и синих, и красных шариков было больше, чем у Кати.



5 На какой тарелке жёлтых яблок больше, чем зелёных груш?



6 На первом перекрёстке машинка повернула налево, на следующем — направо, на следующем — снова направо, на следующем — налево, а потом она ехала прямо. Нарисуй путь машинки.



7 На двух рисунках показана одна и та же полоска из семи клеток, по-разному закрытая белыми листками.



Закрась клетки на нижнем рисунке, чтобы получилась такая же полоска.

