



СМАРТ КЕНГУРУ

♦ Математическая игра для первоклассников ♦ 2023 ♦

Заполни бланк печатными буквами. Используй тёмную ручку.

ФАМИЛИЯ

ИМЯ

КОД ШКОЛЫ (сообщит учитель)

КЛАСС (отметь крестиком X) а б в г д е другое

впиши букву или цифру

В каждой задаче отметь КРЕСТИКОМ один ответ.

1 Какой из букв слова СМАРТИК нет на рисунке?

с м р к



2 Выбери пару, в которой одно число на 3 больше другого.

5 и 7 5 и 3 6 и 9 6 и 4

3 В какой клетке окажется фишка, если ее передвинуть на 3 клетки направо, а потом на 5 клеток налево?



2 3 4 6

4 Какая фигурка не синяя, не круглая и без углов?




5 Смартик считал от 10 в обратном порядке: 10, 9, 8, потом два числа пропустил. Какое число он назвал следующим?

7 6 5 4

6 Сколько клеточек надо добавить, чтобы получился прямоугольник со сторонами 3 и 4 клеточки?

2 3 4 5



7 В очереди стоят 7 ребят. Катя стоит на шестом месте с начала очереди, а Витя – на пятом месте с конца. Сколько ребят стоят между ними?



0 1 2 3

8 В примерах $\text{purple circle} + \text{yellow triangle} = 5$ и $\text{yellow triangle} + \text{yellow triangle} = 6$ кружок и треугольник заменяют две разные цифры. Чему равна сумма $\text{yellow triangle} + \text{yellow triangle} + \text{purple circle}$?

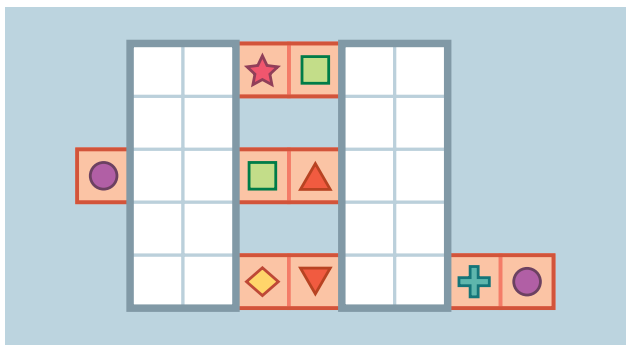
6 7 8 9





9 Что может получиться, если на рисунке справа закрасить ещё 2 квадратика?



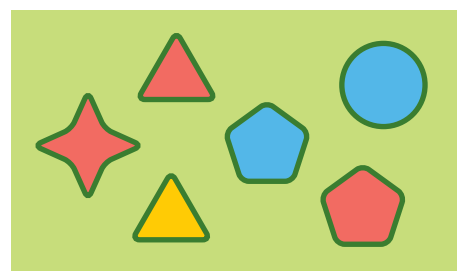
   

10 На столе лежат три одинаковых полоски, а сверху них – два белых клетчатых прямоугольника. Как выглядит каждая полоска?



- 
- 
- 
- 

11 На рисунке показаны клумбы. Каждая клумба засажена цветами одного цвета. Смартик полил все клумбы по одному разу. Он начал с круглой клумбы и каждый раз переходил на клумбу или такой же формы, или с цветами того же цвета. Какую клумбу он полил **предпоследней**?



- 
- 
- 
- 

12 Пять карточек лежат в ряд, как показано на рисунке. Что может получиться, если сначала поменять две карточки местами, а потом переложить самую левую карточку на правый край ряда?



- 
- 
- 
- 